



ESCOLA EB 2,3/S CUNHA RIVARA DE ARRAIOLOS
ANO LECTIVO 2012
CIÊNCIAS NATURAIS – 8º ANO

FICHA DE TRABALHO 6.8

Nome: _____ Nº: _____ Data: _____

1. Observa as imagens seguintes e classifica os seres vivos nelas representados, de acordo com a necessidade em água.



A




B




C



D



E




F




G



H



I



J

a. Preenche a tabela seguinte com os dados das imagens.

Seres _____	Seres _____	Seres _____	Seres _____

2. Distingue:

a. Seres hidrófilos de xerófilos.

b. Seres mesófilos de xerófilos.

2. Que adaptações desenvolveram as plantas para suportarem a falta de água?

3. Indica 3 adaptações dos animais à escassez de água.

Bom trabalho!